

ATIVIDADE PARA ESTUDO DOMICILIAR
14° SEMANA: 22/06/2020 a 26/05/2020

Professor: Jéferson Pitol Righetto	Componente curricular: Geografia
Nível de ensino: Fundamental II	Turmas 711 e 712

HABILIDADES

Avaliar, por meio de exemplos extraídos dos meios de comunicação, ideias e estereótipos acerca das paisagens e da formação territorial do Brasil.
Analisar a influência dos fluxos econômicos e populacionais na formação socioeconômica e territorial do Brasil, compreendendo os conflitos e as tensões históricas e contemporâneas.
Analisar diferentes formas de apropriação, organização e administração do espaço brasileiro ao longo da história.

Aguarde os critérios de avaliação

Aula de Revisão de Conteúdos

Data 23/06 Terça-feira

Hora: 09hs às 09:45

Regras

- Entrar na sala no horário
- Estar com as atividades das semanas anteriores
- Estar com caderno da disciplina
- Que inicialmente todos devem colocar seus nomes
- Câmera ligada
- Microfone desligado/ ligar para perguntar

Link: <https://meet.google.com/gyn-qhkh-mzk>

Link para aula de 16/06: <https://encurtador.com.br/hsPQ2>

Link para orientação para avaliação: <https://encurtador.com.br/eoCIU>

Tutorial montagem de documento para entrega: <https://encurtador.com.br/hAHT6>

Instruções para avaliação

- Fotografe as atividades realizadas até a semana 11;
- Das 8 atividades realizadas, escolha 5, que você considere mais significativas ou desafiadoras;
- Monte um documento em formato .doc ou .pdf em ordem crescente;
- Identifique o aluno na 1ª página.

Envie os registros para o email jeferson.righetto@lasalle.org.br

Prazo de entrega: 26/06

Obs: na última aula o professor orientou os alunos como organizar as atividades, o não cumprimento das mesmas pode reduzir a nota final.

Atividade proposta na última aula:



Observe o mapa e responda no caderno as questões:

América Portuguesa: economia e ocupação do território - século XVI



(DA COSTA MARIAS)

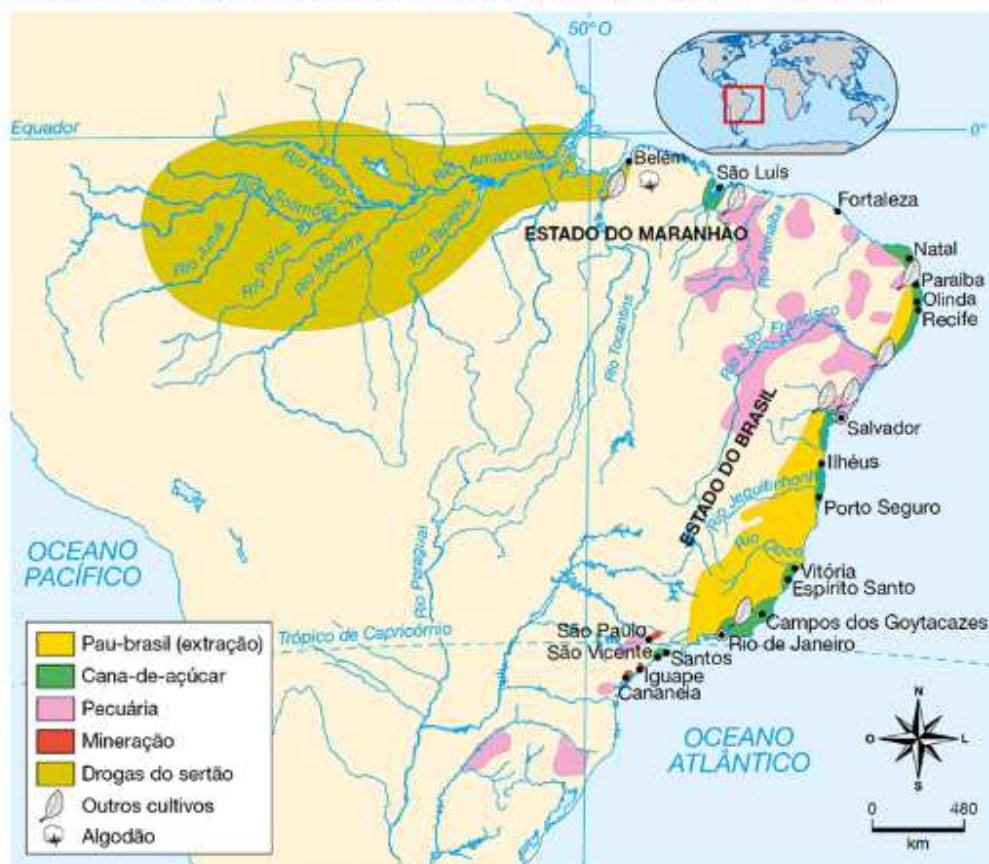
Elaborado com base em: VICENTINO, C. Atlas histórico. São Paulo: Scipione, 2011, p. 102.

- 1  Como as áreas de extração de pau-brasil e de cultivo de cana-de-açúcar foram representadas e diferenciadas no mapa?
- 2  Que outras atividades econômicas foram representadas?

No século XVII, ao mesmo tempo que a economia canieira se desenvolvia e a pecuária avançava em direção ao interior, a extração das chamadas drogas do sertão ocorria expandindo o território português para áreas que pertenciam à Espanha.

Observe o mapa.

América Portuguesa: economia e ocupação do território – século XVII



(ALLMAPS)

Elaborado com base em: VICENTINO, C. Atlas histórico. São Paulo: Scipione, 2011. p. 102.

Produtos extraídos da Floresta Amazônica, como castanha-do-pará, guaraná, pimenta, plantas medicinais, baunilha, urucum, cacau e látex, tinham grande procura no mercado europeu. A comercialização desses produtos era feita pelos **jesuítas**, que utilizavam, na extração, os conhecimentos e a mão de obra indígena.

Jesuíta: padre que faz parte da Companhia de Jesus, ordem religiosa fundada por Inácio de Loyola.



(DU ZUPPANI/PULSAR, IMAGENS)



(TRISH RUBIO/SHUTTERSTOCK.COM)



(RICARDO OLIVEIRA/TYBA)

Desde o período colonial, a semente do guaraná (à esquerda) era usada na preparação de bebidas. O urucum (ao centro) era usado como tempero e corante de tecidos. O látex da seringueira (à direita) era usado para impermeabilizar utensílios e na fabricação da borracha.

O ouro das Minas Gerais

As primeiras minas de ouro foram encontradas pelos bandeirantes somente no final do século XVII. Em razão dessas descobertas, a região passou a ser chamada de Minas Gerais.

A descoberta das minas de ouro e de diamante atraiu milhares de pessoas para as regiões mineradoras e provocou transformações na ocupação e organização territorial da América Portuguesa:

- transferência, no ano de 1763, da sede do governo-geral de Salvador para o Rio de Janeiro, com o objetivo de fiscalizar as minas, evitando o contrabando de ouro e diamante e possibilitando a cobrança mais eficiente dos impostos;
- ocupação mais intensa do interior do território, ocorrendo a fundação de várias cidades, como Vila Rica, atual Ouro Preto (MG), Mariana (MG) e Cuiabá (MT);
- abastecimento das cidades feito pelos **tropeiros**. A crescente população urbana demandava mercadorias e animais, como mulas e burros, usados no trabalho nas minas;
- formação de muitos povoados e vilas nas rotas percorridas pelos tropeiros, como Sacramento (RS) e Sorocaba (SP).

Tropeiro: pessoa que comprava e vendia mercadorias (vinho, queijo, tecido, carne-seca, farinha etc.), levando-as no lombo de mulas e outros animais pelo Interior do Brasil. Também levava e trazia notícias e cartas, contribuindo para a comunicação entre diferentes regiões do território.



Travessia do rio Jaguaricatu, de Jean-Baptiste Debret, 1827. Litografia (14,4 cm x 21,8 cm). (BIBLIOTECA NACIONAL, RIO DE JANEIRO)

Diferentemente da sociedade canaveira, cuja população estava concentrada nas fazendas e engenhos, a sociedade mineradora era mais urbana. Dela faziam parte comerciantes, funcionários públicos, profissionais liberais e milhares de trabalhadores escravizados. Na região das Minas Gerais eram fabricados tecidos e roupas para consumo local e para comércio com as regiões próximas.

As minas pertenciam à Coroa portuguesa, que concedia lotes àqueles que tivessem condições de explorá-los. O trabalho era realizado por escravizados africanos, em locais denominados **lavras**. Devido à intensa exploração, houve esgotamento de muitas minas do interior do Brasil.

A rígida fiscalização das áreas de extração e os altos impostos cobrados pela Coroa portuguesa geraram muitas tensões e conflitos entre colonos e governo. Movimentos pela independência começam a ganhar força, como a **Inconfidência Mineira**, sufocada de forma violenta pela Coroa portuguesa em 1789.

Inconfidência Mineira: movimento separatista ocorrido em Minas Gerais contrário à cobrança de impostos e ao rigoroso controle da Coroa portuguesa sobre o ouro extraído na região.

Atividade 2: Pesquisa - Registre no Caderno.

Pesquise sobre as 4 lideranças da Inconfidência Mineira suas ideias e qual foi a punição recebida em virtude dos seus planos e marque com um **X** no mapa do sul de MG a seguir as principais cidades onde esse movimento aconteceu:

* **Tiradentes e Silvério dos Reis são obrigatórios e os outros dois são de livre escolha.**



Fonte: Livro Panoramas Geografia FTD